

# SCHATZ-SUCHE ROUTE IN SEDRUN

5) Nun hast Du eine gute Aussicht auf die alte Hauptstrassenbrücke. Wie viele kleine Öffnungen hat das gemauerte Brückengeländer auf der Bergseite (Alle halbrunden Öffnungen Seite Bahnlinie) ?



1) Wenn Du die Schatzkarte schon hast, kannst Du mit der MGB bis zur Station Sedrun fahren. Alle anderen beginnen beim Tourismusbüro und laufen zuerst nach Osten und folgen dann vor dem Drun der Strasse zum Bahnhof. Beim Bahnhof Sedrun, an der Linie des berühmten Glacier-Express, ist der erste Posten der Schatzsuche!

Nun rechne:  
Addiere die Zahlen von Frage 13, 16, 19, 21, 23, 24 Teile nun das Resultat durch die Antwort von Frage 25. Dies ergibt die **dritte Ziffer** Deines Codes.

6) Folge hier dem Wegweiser nach rechts (schmäler Weg), damit Du nicht auf die Kantonsstrasse kommst.

7) Hier geht es Richtung Rueras.

8) Du siehst nun diese Kapelle. Zähle alle goldigen Kugeln auf dem Dach.

Nun rechne:  
Addiere die Antworten von Frage 2, 4, 5. Nun subtrahierst Du die Antwort von Frage 8. Dies ergibt die **erste Ziffer** Deines Codes.

9) Wenn Du diesem Wegweiser nach „Rueras“ folgst, befindest Du Dich oberhalb der Kantonsstrasse.

10) Bei dieser Sitzbank beim Bächlein kannst Du zur Schreinerie hinunterschauen, welche die Bar im „Excellent Class Wagen“ des Glacier-Express baute. Aus wie vielen Buchstaben besteht das Logo?

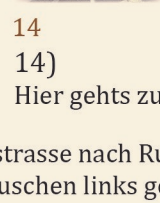
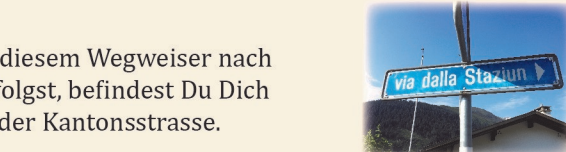


11) Wenn Du genau diesen blauen Hydranten entdeckt hast, notiere die letzte Ziffer!

12) Hier musst Du die Kantonsstrasse auf dem Fussgängerstreifen überqueren. Wie viele gelbe Streifen hast du überquert?



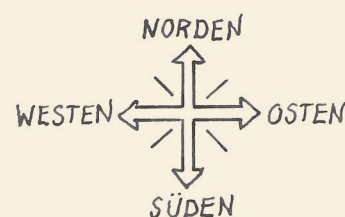
Nun rechne:  
Addiere nun die Antworten von 10, 11 und subtrahiere die Antwort von 12 Dies ergibt die **zweite Ziffer** Deines Codes.



13) Folge der Dorfstrasse nach Rueras. Hast Du alle Fenster des kleinen Häuschen links gezählt? (Fenster mit Läden.) Danach der Strasse entlang weiter laufen.

16) Nun bist Du beim Restaurant des Campings. Wie viele Rohre und Stangen schauen aus dem Dach oder sind auf diesem montiert?

15) Hier links abbiegen.



Startzeit: von 8:00 bis 13:00 Uhr, Montag bis Samstag, von April bis Oktober gültig.  
Dauer: Je nach Kindesalter 2,5 bis 3,5 Stunden einplanen, Distanz ca. 6.3km, gute Schuhe. (kinderwagentauglich, ohne Gewähr)

15) Hier links abbiegen.



26) Nun bist du schon bei „La Miula“ wo es mehr als nur ein Brotkrümelchen gibt. Kommst Du spät, bleiben Dir nur noch diese. Nun siehst Du schon fast das Ziel! Gehe nun weiter bis zum nächsten Gebäude.



25) Wenn Du nach etwa 200m rechts zur Hauptstrasse hinunterläufst, kommt zuerst der Laden und vis à vis die Backstube des Bäckers der kleinsten Nusstorte der Welt. Wieviele Buchstaben hat sein Vorname?

24) Folge der Hauptstrasse rechts und überquere sie beim Fussgängerstreifen vor der S. Onna Kapelle. Welche Hausnummer hat sie? Notiere die erste Ziffer. Folge nun links der Quartierstrasse, die parallel zur Hauptstrasse verläuft.

23) Nach einem SBB Wegweiser zum NEAT-Zugang und Infotafeln des Kraftwerks, folgt auf der linken Seite die Talstation der Tgom-Werkbahn. Wie viele Kabinen hat die Windenbahn? Folge der Strasse und biege vor der Brücke rechts in den Fussweg ab der zur Strasse führt.

22) Gehe über die Brücke und folge dem Weg Richtung Dorf.

21) An dieser Stelle siehst Du den Eingang einer Kaverne Den „Ovras Eleelectricas Reinanterior“. Beim Eingang links findest Du ein kleines Täfelchen mit der Höhenangabe. Notiere die zweite Ziffer.

20) Gehe nach der Tafel auf dem Waldweg etwa 500m weiter.


19) Oberhalb dieser Tafel ist ein rundes Verkehrsschild montiert. Wie viele unmotorisierte Fahrzeuge sind darauf?

18) Nach der Grillstelle biegst Du nach links in die Waldstrasse ein. Nach 50 Metern folgst Du links der Waldstrasse.

17) Nun läufst Du über den Campingplatz bis zum Rhein und überquerst die Holzbrücke (Diese Brücke ist von der Terrasse des Campings gut sichtbar).

1 km  
1:12'500

MEIN SCHATZTRUHE CODE:



Ch. Berger 2024 V4

©2020

Schulklassen: Für Schüler des Niveau III oder mit angepassten Lernzielen nicht geeignet. Bauarbeiten können jederzeit zu Veränderungen führen. Wir danken für Ihr Verständnis.